

WYPEŁNIA ZDAJĄCY

KOD

--	--	--

PESEL

--	--	--	--	--	--	--	--	--	--

Miejsce na naklejkę.

Sprawdź, czy kod na naklejce to
M-K00.

Jeżeli tak – przyklej naklejkę.
Jeżeli nie – zgłoś to nauczycielowi.

Egzamin maturalny

Formuła 2023

MATEMATYKA

Poziom podstawowy

TEST DIAGNOSTYCZNY

Symbol arkusza

MMAP-P0-**K00**-2412

DATA: **6 grudnia 2024 r.**

GODZINA ROZPOCZĘCIA: **9:00**

CZAS TRWANIA: **180 minut**

LICZBA PUNKTÓW DO UZYSKANIA: **50**

WYPEŁNIA ZESPÓŁ NADZORUJĄCY


Uprawnienia zdającego do:

- dostosowania zasad oceniania
- dostosowania w zw. z dyskalkulią
- nieprzenoszenia odpowiedzi na kartę.

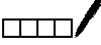


Przed rozpoczęciem pracy z arkuszem egzaminacyjnym


1. Sprawdź, czy nauczyciel przekazał Ci **właściwy arkusz egzaminacyjny**, tj. arkusz we **właściwej formule**, z **właściwego przedmiotu** na **właściwym poziomie**.
2. Jeżeli przekazano Ci **niewłaściwy** arkusz – natychmiast zgłoś to nauczycielowi. Nie rozrywaj banderol.
3. Jeżeli przekazano Ci **właściwy** arkusz – rozerwij banderole po otrzymaniu takiego polecenia od nauczyciela. Zapoznaj się z instrukcją na stronie 2.





Instrukcja dla zdającego


1. Sprawdź, czy arkusz egzaminacyjny zawiera 31 stron (zadania 1–30).
Ewentualny brak zgłoś przewodniczącemu zespołu nadzorującego egzamin.
2. Na pierwszej stronie arkusza oraz na karcie odpowiedzi wpisz swój numer PESEL i przyklej naklejkę z kodem.
3. Symbol  zamieszczony w nagłówku zadania oznacza, że rozwiązanie zadania zamkniętego musisz przenieść na kartę odpowiedzi. Ocenie podlegają wyłącznie odpowiedzi zaznaczone na karcie odpowiedzi.
4. Odpowiedzi do zadań zamkniętych zaznacz na karcie odpowiedzi w części przeznaczonej dla zdającego. Zamaluj  pola do tego przeznaczone. Błędne zaznaczenie otocz kółkiem  i zaznacz właściwe.
5. Pamiętaj, że pominięcie argumentacji lub istotnych obliczeń w rozwiązaniu zadania otwartego może spowodować, że za to rozwiązanie nie otrzymasz pełnej liczby punktów.
6. Rozwiązania zadań i odpowiedzi wpisuj w miejscu na to przeznaczonym.
7. Pisz czytelnie i używaj tylko długopisu lub pióra z czarnym tuszem lub atramentem.
8. Nie używaj korektora, a błędne zapisy wyraźnie przekreśl.
9. Pamiętaj, że zapisy w brudnopisie nie będą oceniane.
10. Możesz korzystać z *Wybranych wzorów matematycznych*, cyrkla i linijki oraz z kalkulatora prostego. Upewnij się, czy przekazano Ci broszurę z okładką taką jak widoczna poniżej.



**Zadania egzaminacyjne są wydrukowane
na następnych stronach.**

Zadanie 3. (0–2)

Wykaż, że liczba $2^{100} + 4^{49} + 16^{24}$ jest podzielna przez 21.




Zadanie 8. (0–3)

Rozwiąż równanie

$$\frac{x+3}{x-1} = \frac{x}{2x-2}$$

Zapisz konieczne założenie i obliczenia.




Zadanie 9. (0–2)

Rozwiąż nierówność

$$x(x - 6) \leq 7$$

Zapisz obliczenia.

A large grid of graph paper, consisting of 20 columns and 30 rows of small squares, intended for writing the solution to the inequality.


Zadanie 12.3. (0–1)


Funkcja kwadratowa g jest określona za pomocą funkcji f następująco: $g(x) = f(x) - 1$.

Oceń prawdziwość poniższych stwierdzeń. Wybierz P, jeśli stwierdzenie jest prawdziwe, albo F – jeśli jest fałszywe.

Funkcja g ma jedno miejsce zerowe.	P	F
W kartezjańskim układzie współrzędnych (x, y) osią symetrii wykresu funkcji g jest prosta o równaniu $x = 3$.	P	F

Brudnopis



Zadanie 18. (0–1) 

Kąt o mierze α jest rozarty oraz $\sin \alpha = \frac{\sqrt{3}}{4}$.

Dokończ zdanie. Wybierz właściwą odpowiedź spośród podanych.

Cosinus kąta o mierze α jest równy


A. $\left(-\frac{\sqrt{13}}{4}\right)$

B. $\left(-\frac{1}{2}\right)$

C. $\frac{1}{2}$

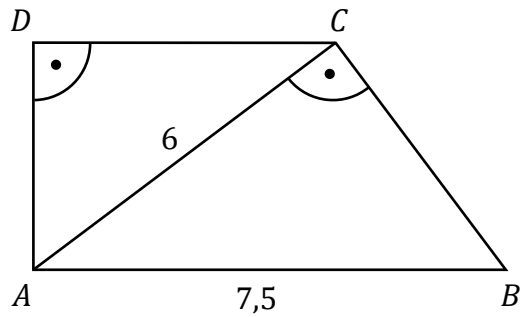
D. $\frac{\sqrt{13}}{4}$

Brudnopis





Zadanie 19. (0–4)


W trapezie prostokątnym $ABCD$ dłuższa podstawa AB ma długość $7,5$.
Krótsza przekątna AC ma długość równą 6 i dzieli trapez na dwa trójkąty prostokątne
(zobacz rysunek).



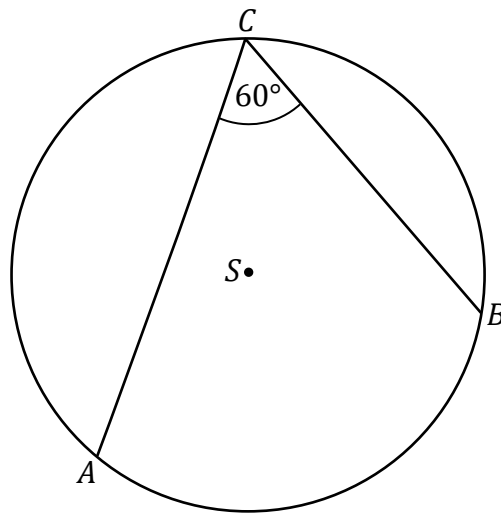
Oblicz pole trapezu $ABCD$. Zapisz obliczenia.





Zadanie 20. (0–1) 

Dany jest okrąg o środku w punkcie S i promieniu 6 .
Miara kąta wpisanego ACB jest równa 60° (zobacz rysunek).



Dokończ zdanie. Wybierz właściwą odpowiedź spośród podanych.

Długość łuku AB , na którym oparty jest kąt wpisany ACB , jest równa


A. 2π

B. 4π

C. 6π

D. 12π

Brudnopis



Zadanie 23. (0–1)

W kartezjańskim układzie współrzędnych (x, y) dane są cztery okręgi: o_1, o_2, o_3, o_4 , o równaniach:

$$o_1: (x - 1)^2 + (y - 2)^2 = 1$$

$$o_2: (x + 1)^2 + (y + 2)^2 = 9$$

$$o_3: (x - 3)^2 + (y - 4)^2 = 4$$

$$o_4: (x + 3)^2 + (y + 4)^2 = 16$$

Dokończ zdanie. Wybierz właściwą odpowiedź spośród podanych.

Okręgiem, który nie ma żadnego punktu wspólnego z osiami układu współrzędnych (x, y) , jest


A. o_1

B. o_2

C. o_3

D. o_4

Brudnopis



Zadanie 24. (0–1)

Podstawą ostrosłupa prawidłowego czworokątnego jest kwadrat o boku długości 4. Ściana boczna tego ostrosłupa jest nachylona do płaszczyzny podstawy pod takim kątem α , że $\operatorname{tg} \alpha = 3$.

Dokończ zdanie. Wybierz właściwą odpowiedź spośród podanych.

Wysokość tego ostrosłupa jest równa

A. 3

B. 6

C. $6\sqrt{2}$

D. 12

<i>Brudnopis</i>																										

Zadanie 25. (0–1)

Długości trzech krawędzi wychodzących z jednego wierzchołka prostopadłościanu są trzema kolejnymi parzystymi liczbami naturalnymi. Najdłuższa krawędź tego prostopadłościanu ma długość p .

Dokończ zdanie. Wybierz właściwą odpowiedź spośród podanych.

Objętość tego prostopadłościanu jest równa

A. $p^3 - 3p^2 + 2p$

B. $p^3 + 3p^2 + 2p$

C. $p^3 - 6p^2 - 8p$


D. $p^3 - 6p^2 + 8p$

<i>Brudnopis</i>																										

Zadanie 26. (0–2)

Objętość stożka o wysokości 2 jest równa 8π .

Oblicz miarę kąta rozwarcia tego stożka. Zapisz obliczenia.




Zadanie 28. (0–2)

Dane są dwa zbiory: $C = \{1, 2, 3, 4, 5, 6\}$ oraz $D = \{7, 8, 9, 10\}$.

Losujemy jedną liczbę ze zbioru C , a następnie losujemy jedną liczbę ze zbioru D .

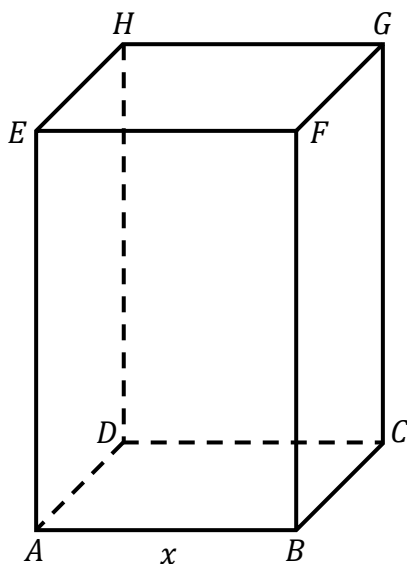
Oblicz prawdopodobieństwo zdarzenia A polegającego na tym, że wylosujemy liczby, których iloczyn będzie podzielny przez 4. Zapisz obliczenia.




Zadanie 30. (0–4)


Rozważamy wszystkie prostopadłościany $ABCDEFGH$, w których krawędź AE jest 3 razy dłuższa od krawędzi AB , a suma długości wszystkich dwunastu krawędzi prostopadłościanu jest równa 48 (zobacz rysunek).

Niech $P(x)$ oznacza funkcję pola powierzchni całkowitej takiego prostopadłościanu w zależności od długości x krawędzi AB .





Wyznacz wzór i dziedzinę funkcji P . Oblicz długość x krawędzi AB tego z rozważanych prostopadłościanów, którego pole powierzchni całkowitej jest największe. Zapisz obliczenia.





BRUDNOPIS (nie podlega ocenie)





MATEMATYKA

Poziom podstawowy

Formuła 2023



MATEMATYKA

Poziom podstawowy

Formuła 2023



MATEMATYKA

Poziom podstawowy

Formuła 2023

